



وزارة التربية

إدارة الشؤون التعليمية

مراقبة الامتحانات وشؤون الطلبة

نموذج الإجابة

المرحلة المتوسطة

الدور الثاني (كامل المنهج)

المادة : الاجتماعيات

الصف : التاسع

العام الدراسي

2016 / 2015

منطقة مبارك الكبير التعليمية

وزارة التربية
اختبار مادة الاجتماعيات المنهج كامل
العام الدراسي 2015-2016
الإدارة العامة لمنطقة مبارك الكبير التعليمية
للفصف التاسع
زمن الاختبار: ساعة و45 دقيقة
التوجيه الفني للاجتماعيات
عدد الأوراق: (4)

6

السؤال الأول (موضوعي) ويتكون من (أ-ب-ج-د-هـ):

أ) أكمل العبارات التالية بما يناسبها :

- 1- عقد مؤتمر قمة الأرض عام 1992م في دولة تسمى . البرازيل ص135
- 2- أجسام كونية معتمدة باردة تستمد نورها من أقرب نجم لها تسمى .. الكواكب ص17
- 3- كل ما يحيط بالإنسان من ظاهرات حية وغير حية تسمى البيئة الطبيعية ص52
- 4- أكثر قارة من حيث عدد السكان تسمى آسيا ص82
- 5- انضمت الكويت إلى هيئة الأمم المتحدة في عام 1963ص143
- 6- قيمة الصادرات وواردات الدولة خلال سنة تسمى الميزان التجاري .ص84

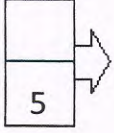


ب) اختر الإجابة الصحيحة من حيث البدائل التي تلي كل عبارة مما يلي بوضع خط تحتها :

5

- 1- النسبة التي تشكلها المساحة الجبلية من المساحة الكلية لليابان هي :ص92
أ- 50 % ب- 73% ج- 83 % د- 93%
- 2- أكبر الكواكب الصخرية وأشدّها كثافة يسمى :ص21
أ- الأرض ب- المشتري ج- نبتون د- الزهرة
- 3- من العناصر الغير حية المكونة للنظام البيئي :ص51
أ- إنسان ب- نبات ج- الهواء د- حشرات
- 4- عقد مؤتمر الصلح بعد الحرب العالمية الأولى في قصر فرساي بمدينة أوروبية اسمها :
أ- روما ب- لندن ج- مدريد د- باريس ص119
- 5- أكبر الأقاليم التي يملوها الصندوق الكويتي للتنمية الاقتصادية هي :ص144
أ- الدول العربية ب- دول غرب أفريقيا ج- دول أمريكا اللاتينية د- دول وسط آسيا

ج) صحح ماتحته خط في العبارات التالية :



1- عدد الأعضاء الدائمين في مجلس الأمن هو 8 أعضاء (5 أعضاء ..) ص128

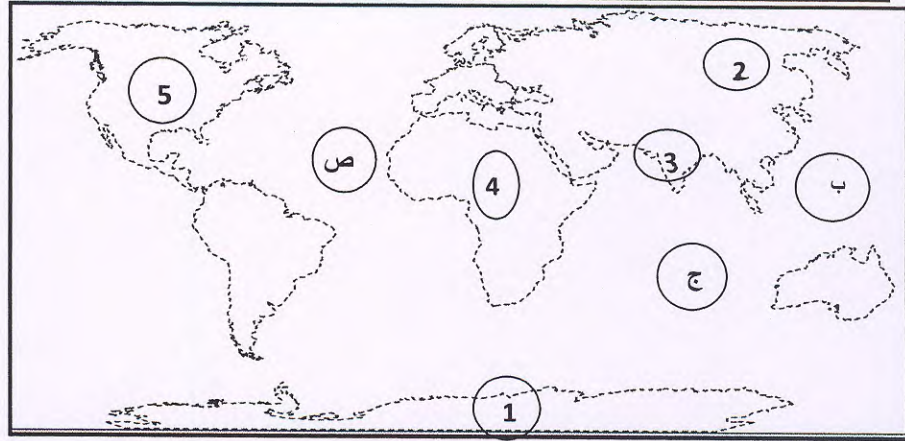
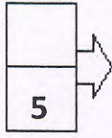
2- غزا النظام العراقي البائد دولة الكويت عام 1991م (1990). ص146

3- انسحبت روسيا من الحرب العالمية الأولى بسبب قيام الثورة الصناعية (الشيوعية) ص118

4- شكل من أشكال السلطة يكون الحكم بمقتضاه بيد الشعب (الادخار) (الديمقراطية). ص104

5- اصغر قارة في العالم من حيث المساحة تسمى أفريقيا (استراليا). ص79

د) لاحظ خريطة العالم ثم نفذ المطلوب فيما يليها:



• أكثر قارات العالم من حيث السكان تحمل الرقم (2) ص79

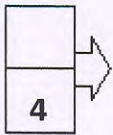
• المحيط الأطلسي يمثله الحرف (ص) 32

• قارة انتاركتيكا تحمل الرقم (1) ص81


• جمهورية الهند على الخريطة تمثلها الرقم (3) ص89

• قارة أمريكا الشمالية تحمل الرقم (5) ص79

هـ) أكمل المخطط السهمي التالي :



العوامل التي يقوم عليها الإنتاج: ص107

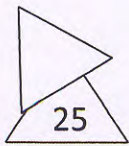


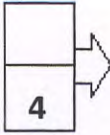
مميزات القمر: ص28

يفتقر إلى الغلاف الغازي

كروي الشكل

قوة الجاذبية على سطحه صغيره
تعادل ست الجاذبية الأرضية






السؤال الثاني (أ) فسر المفاهيم التالية :

- 1- الموارد الطبيعية :-...هي كل ما يستغله الإنسان من خامات أولية في الغلاف الصخري والغلاف المائي والغلاف الجوي لسطح الأرض بصورة مباشرة أو غير مباشرة ..ص52
- 2-الحضيض :أقرب نقطة إلى الشمس تصل إليها الأرض في مدارها...ص27
- 3- الغلاف الصخري القشرة الخارجية لكوكب الأرض والمتمثلة بصخور اليابس(السيال) وصخور أرضيات المحيطات (السيما) ص33
- 4- لتكافل الاجتماعي :-النظام الذي يقوم على التفاعل والإعالة بين الأعضاء في مجتمع من المجتمعات ص110.



ب (قارن بين كل من طبقاً للجدول التالي :ص116-124

وجه المقارنة	الحرب العالمية الأولى	الحرب العالمية الثانية
العام	1914م	1939م
النتائج	1-اختفاء أربع إمبراطوريات عريقة 2- فرض غرامة مالية على الدول المهزومة 3- فرض القيود على الجيش والأسطول الألماني	1- عدلت خريطة أوروبا السياسية من جديد 2- قضي على النازية والفاشية 3- انقسمت ألمانيا إلى شرقية وغربية 4- خرجت الولايات المتحدة والاتحاد السوفيتي كأكبر دولتين في العالم

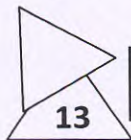


ج) اقرأ الفقرة التالية بدقة ثم أجب عما يليها مستعينا بالنص ومما درست :

"لقد نشأ الإنسان الأول في بيئة طبيعية لم تتعرض للتلوث , ولكن نتيجة للانفجار السكاني والتصنيع والتمدن والتكنولوجيا ظهرت مشكلة (التلوث البيئي)ومنها تلوث الهواء والتربة والماء, فأصبح تلوث البيئة ظاهرة نشعر ونحس بها جميعاً "



- 1- ما المقصود بمفهوم التلوث البيئي ؟ ص59
- أي تغير غير مرغوب فيه في الخواص الطبيعية أو الكيميائية أو البيولوجية للبيئة المحيطة
- 2- عدد أنواع التلوث البيئي : ص61
- (أ) .. الهواء [ب] التربة - الماء
- 3- علل: أسباب ظهور مشكلة التلوث البيئي .؟ ص60) للانفجار السكاني- والتصنيع والتمدن والتكنولوجيا (



نهاية السؤال الثاني

4- السؤال الثالث : يتكون من (أ - ب) : علل لما يأتي :

1- للحاسوب أهمية كبيرة في حياة الإنسان. ص 97

تدخل استخداماته في جميع مجالات الحياة ويوفر الوقت والجهد والتكاليف تخزين المعلومات وتحليلها -الاتصال والتواصل مع الآخرين

2- دخول الولايات المتحدة الأمريكية للحرب العالمية الأولى. ص 118

..تكرار أعمال الغواصات الألمانية ضد بواخر أمريكية

3-جود الحياة على كوكب الأرض. ص 21

وجود الجاذبية الأرضية والغلاف الجوي .

4- يعتبر النفط والغاز الطبيعي مادة إستراتيجية في عصرنا الحاضر . ص 130

توفرهما بكميات كبيرة في مناطق محدودة- سهولة نقلهما وتخزينهما -يعتبران مادتان هامتان وقت السلم والحرب

(ب) أجب في نقطتين فيما يلي :

1- نتائج الدورة المحورية للأرض . ص 26

• تعاقب حدوث الليل والنهار ... تعاقب الحرارة والبرودة

• ... اختلاف التوقيت بين مناطق الأرض

2- مقومات قيام الصناعة . ص 71

• توافر المواد الخام الأولية .. توافر الطاقة اللازمة لتحريك الآلات .

• ... وفرة الأيدي العاملة المدربة .. توفر رأس المال .. وسائل النقل

3- أهمية الغلاف الجوي . ص 37

يحمي سطح الأرض من تساقط الشهب والنيازك.

تنعدم الحياة على سطح الأرض لأنه مصدر تكوين السحب والغيوم والإمطار .. يعتمد عليه الإنسان والحيوان في عملية التنفس.....

4- العناصر التي تحدد الرأي العام . ص 106

• وجود قضية تكون محل اهتمام الناس .. وجود جمهور للرأي العام

.....التعبير أو الإفصاح عن الرأي بالكلمة المكتوبة أو المنطوقة

